

Тестовый тур

Все ответы занесите в БЛАНК для ответов

1. Какие страны входят в Европейский союз?

- А. Норвегия, Венгрия, Франция, Греция;
- Б. Великобритания, Германия, Испания, Швеция;
- В. Словакия, Финляндия, Болгария, Хорватия;
- Г. Мальта, Нидерланды, Польша, Швейцария.

2. Определите страну по описанию:

Граничит по суше с более 5 странами. Имеет выход к морю. В стране государственный строй — парламентская республика. Преобладают равнины и низменности. Большое количество медных руд, каменного угля. Является крупнейшим производителем тритикале, ржи, яблок, сахарной свеклы. Католицизм исповедует 80% населения страны. На территории этой страны проживает наибольшее количество белых аистов (23% от мировой популяции). Мазурское поозёрье представляют собой исторический и этнографический район в северной части страны.

- А. Монако;
- Б. Австрия;
- В. Польша;
- Г. Болгария.

3. Расположите реки по их географическому положению с запада на восток:

- А. Волга;
- Б. Лена;
- В. Индигирка;
- Г. Обь.

4. Установите соответствие между страной и столицей. Запишите буквы и цифры, соответствующие выбранным ответам.

- | | |
|----------------------------------|--------------|
| А) Нидерланды | 1) Белград |
| Б) Саудовская Аравия | 2) Дубай |
| В) Гамбия | 3) Эр-Рияд |
| Г) Объединенные Арабские Эмираты | 4) Амстердам |
| Д) Сербия | 5) Виндхук |
| | 6) Абу-Даби |
| | 7) Банжул |

5. Общая площадь Красноярского края составляет:

- А. 2 845,5 тыс. км²
- Б. 2 784,6 тыс. км²
- В. 2 981,7 тыс. км²
- Г. 2 366,8 тыс. км²


6. Назовите самую многоводную реку Российской Федерации:

7. Установите соответствие между термином и описанием. Запишите буквы и цифры, соответствующие выбранным ответам.

- | | |
|----------------------|---|
| А) Атмосферный фронт | 1) Крупный атмосферный вихрь с пониженным давлением в центре. |
| Б) Воздушные массы | 2) Подвижные объемы воздуха в тропосфере, одинаковые по своим свойствам. |
| В) Циклон | 3) Вытянутая зона в тропосфере на границе воздушных масс с различными свойствами. |
| Г) Антициклон | 4) Крупный атмосферный вихрь с повышенным давлением в центре. |
| | 5) Сезонный ветер, меняющий свое направление летом и зимой. |

8. Определите изображения условных знаков на топографической карте, которые представлены ниже:

А.



В.



Б.



Г.



9. Выберите верное утверждение, характеризующее Российскую Федерацию:

- А. Крупнейшее озеро полуострова Ямал - Имандра, славится чистотой своих вод и ценными ресурсами сиговых рыб.
- Б. Нефтяное месторождение Ромашкинское входит в первую двадцатку крупнейших месторождений мира.
- В. Основные отрасли специализации Поволжья — черная и цветная металлургия и оборонно-промышленный комплекс.
- Г. В 2023 году Россия вышла на первое место в мире по импорту пшеницы.

10. Назовите один из самых активных вулканов Евразии, его высота около 4700 метров.

11. Какие крупные народы относятся к финно-угорской группе?

- А. Мордва, удмурты, марийцы;
- Б. Аварцы, черкесы, адыгейцы;
- В. Кумыки, балкарцы, карелы;
- Г. Чувашы, башкиры, финны.

12. Самая молодая традиционная мировая религия.

13. Численность населения, которая соответствует среднему городу

- А. От 500 тыс.;
- Б. До 50 тыс.;
- В. 50 - 100 тыс.;
- Г. 500 - 750 тыс.

14. Сопоставьте географические приборы и их названия:

А.








В.



Б.

Г.

1.		2.	
3.		4	
5.			

**Задание 2. Определите географический район по его характеристике.
Максимальное количество баллов – 10.**

Плодородные равнины, богатые недра сделали эту территорию благоприятной для человеческой деятельности. Единственное место в мире, где находится 17 гор-лакколитов, которые геологи зачастую называют «неудавшимися вулканами». Через морские порты обеспечивает выход России к стратегическим проливам. В состав района включены 10 республик, 2 края, 3 области и город федерального значения. Велики запасы вольфрамово-молибденовых руд, давно разрабатывается месторождение свинцово-цинковых руд, также есть месторождения нефти, газа и железных руд. Самый многонациональный район и один из наиболее густонаселенных регионов России. Самый крупный город территории, основанный в 1749 году, расположен совсем не в географическом центре района, и это связано со строительством железной дороги. Главная отрасль экономики — сельское хозяйство, здесь сложился мощный агропромышленный комплекс.

№	Вопрос
1.	Назовите географический район
2.	Какие два края входят в состав района?
3.	Назовите город федерального значения
4.	Назовите отрасли специализации района
5.	Назовите крупные города района

Задание 3.

Рассчитайте ресурсообеспеченность стран. Используя данные из приведённой ниже таблицы, сравните ресурсообеспеченность стран пресной водой. Расположите страны в порядке уменьшения в них показателя ресурсообеспеченности пресной водой на душу населения, начиная со страны с наибольшим показателем.

Максимальное количество баллов – 10 баллов.

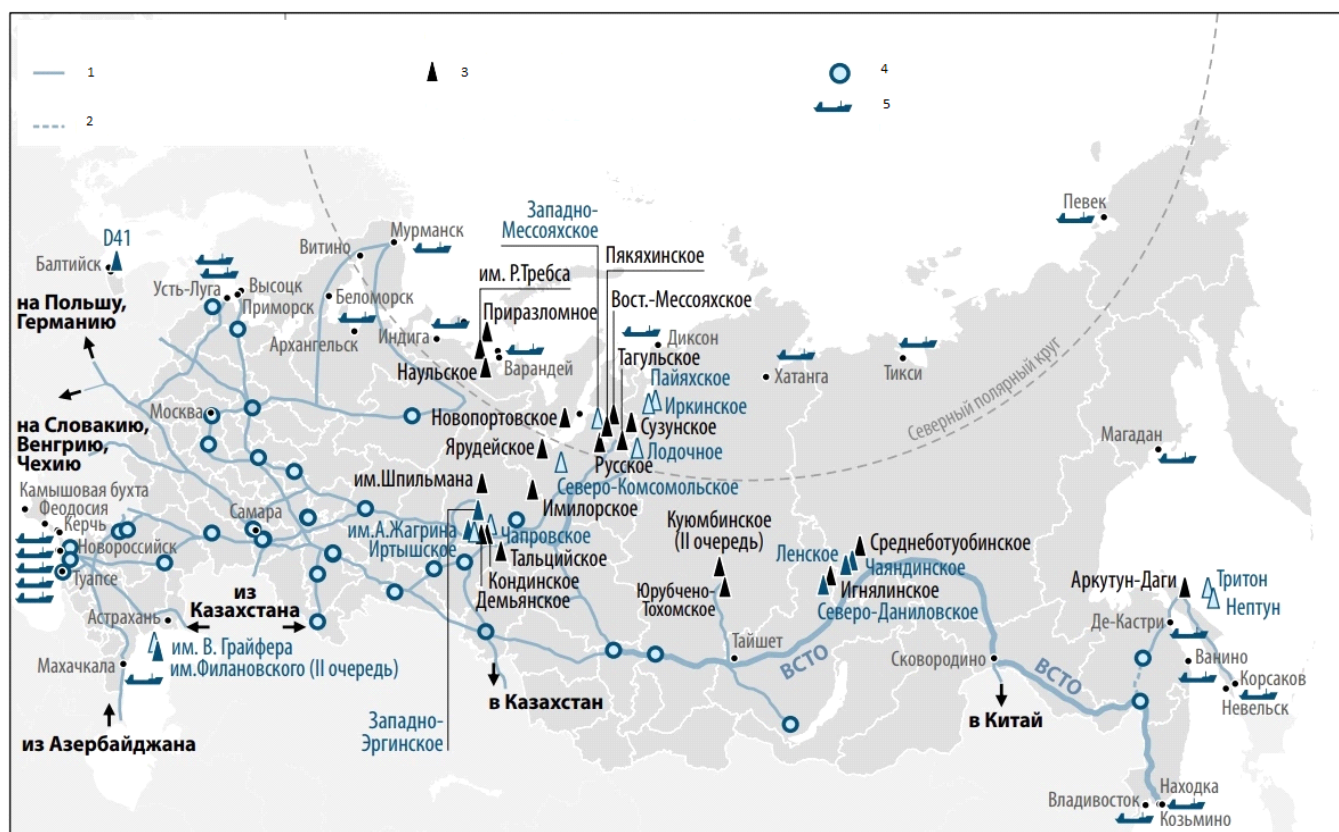
№	Название страны	Добыча, млрд т	Численность населения, млн. чел.	Ресурсы, км ³
1.	Российская Федерация	64,9	144	4 500
2.	Венесуэла	50	28	1 320
3.	Канада	58,7	38	2 900
4.	Индия	62,2	1,417	2 085
5.	Мьянма	20	54	55

Расположите страны в порядке уменьшения в них показателя ресурсообеспеченности пресной водой на душу населения, начиная со страны с наибольшим показателем.

Задание 4.

Перед вами карта. Ответьте на вопросы, используя данную карту.

Максимальное количество баллов – 10 баллов.



- 1) Напишите название карты
- 2) Напишите название условных обозначений в легенде карты
- 3) Какими видами транспортировки можно перевозить данный продукт
- 4) Назовите географический район – лидер по добыче данного ресурса