

Всероссийская олимпиада школьников 2024-25 учебный год  
Школьный этап. География, 9 класс, задания.  
Время выполнения 90 мин. Максимальное кол-во баллов – 60  
**Тестовый тур**

**1. Новые сутки начинаются:**

- А. На экваторе  
Б. На меридиане 180°  
В. На Гринвичском меридиане  
Г. На северном тропике

**2. Одновременно в трёх полушариях расположено государство:**

- А. Кирибати  
Б. Канада  
В. Мадагаскар  
Г. Россия

**3. Чем гуще горизонталы на карте, тем склон:**

- А. Положе  
Б. Длиннее  
В. Выше  
Г. Круче

**4. Какая звезда практически не меняет своего положения на небосклоне:**

- А. Малая Медведица  
Б. Полярная  
В. Большая Медведица  
Г. Северная

**5. Какие равнины из перечисленных не соответствуют древним платформам?**

- А. Восточно-Европейская  
Б. Индо-Гангская  
В. Западно-Сибирская  
Г. Туранская  
Д. Великая Китайская

**6. Какой из перечисленных геологических периодов является наиболее древним?**

- А. Меловой  
Б. Девонский  
В. Кембрийский  
Г. Палеогеновый

**7. Основные запасы пресной воды на Земле сосредоточены в:**

- А. Озёрах  
Б. Ледниках  
В. Реках и водохранилищах  
Г. Подземных водах

**8. Найдите соответствия между столбцами (горная система – вершина):**

- А. Памир  
Б. Пиренеи  
В. Алтай  
Г. Гималаи  
Д. Кордильеры  
Е. Урал
- 1 - Белуха  
2 - Народная  
3 - пик Мак-Кинли  
4 - Джомолунгма  
5 - пик Исмаила Сомони  
6 - пик Ането

**9. Крупнейшее пресноводное озеро Европы и второе по величине озеро России, имеющее ледниково-тектоническое происхождение - \_\_\_\_\_**

**10. Барическая ложбина, точка росы, фронт – это термины науки:**

- А. Гидрология  
Б. Геоморфология  
В. Метеорология  
Г. Гляциология

**11. Выберите верные суждения:**

- А. Урал - район современного горообразования  
Б. Термокарстовые процессы протекают в зоне многолетней мерзлоты  
В. Складчатость, сформировавшая Алтае-Саянскую горную систему, проходила в кайнозойскую эру  
Г. Крупнейшее болото России и мира находится на территории Западно-Сибирской низменности

**12. На уменьшение солёности Северного Ледовитого океана влияет:**

- А. Потепление климата  
Б. Хозяйственная деятельность человека  
В. Положение океана в Арктике  
Г. Глубинная тектоническая деятельность

**13. Выберите правильное соответствие «тип почв – природная зона».**

- А. Дерново-подзолистые почвы – степи  
Б. Каштановые почвы – широколиственные леса  
В. Желтозёмы – смешанные леса

Г. Подзолистые почвы – тайга

**14. Какой физико-географический объект находится севернее других?**

А. Анабарское плато

В. Приленское плато

Б. Вилюйское плато

Г. Яблоновый хребет

**15. Выберите вариант, где все реки относятся к одному бассейну стока.**

А. Уссури, Амур, Волга

В. Печора, Терек, Камчатка

Б. Дон, Кубань, Нева

Г. Урал, Енисей, Лена

**16. К монгольской языковой группе относятся:**

А. Тувинцы

В. Казахи

Б. Калмыки

Г. Хакасы

**17. Финно-угорские народы России преимущественно исповедуют:**

А. Ислам

В. Православие

Б. Шаманизм

Г. Буддизм

**18. Естественный прирост населения – это:**

А. Сумма родившихся и умерших

Б. Разница между родившимися и умершими

В. Соотношение между родившимися и умершими в промилле

Г. Динамика численности населения

**19. Средняя плотность населения в России находится в интервале:**

А. 0-5 чел./ км<sup>2</sup>

В. 11-15 чел./ км<sup>2</sup>

Б. 6-10 чел./ км<sup>2</sup>

Г. 16-20 чел./ км<sup>2</sup>

**20. Не является соседом России второго порядка:**

А. Швеция

В. Армения

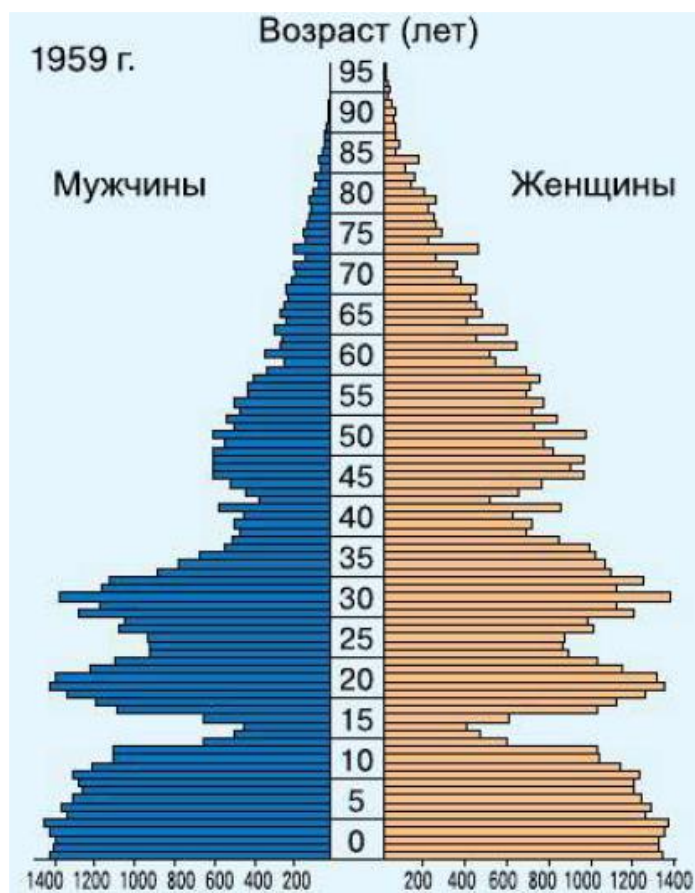
Б. Молдавия

Г. Грузия

### Практический тур

**Задание 1. Максимальное количество баллов – 6**

Перед вами половозрастная пирамида населения России, в тыс. чел. Проанализируйте её и ответьте на вопросы. Ответы занесите в бланк ответов.

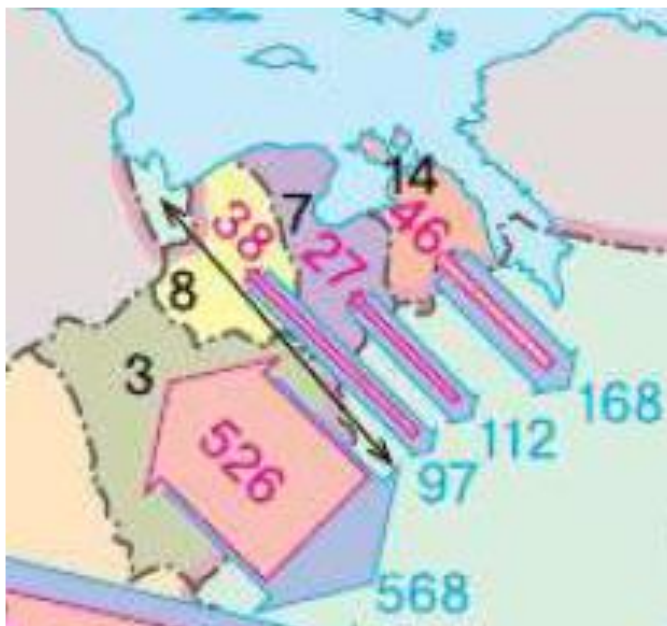


- 1) Максимальная численность мужского населения в 1959 г. наблюдалась в \_\_\_\_\_-летнем возрасте (вставьте число).
- 2) Укажите численность мужского населения в этом возрасте, в тыс. чел.  
\_\_\_\_\_
- 3) В каком году родилось это поколение? \_\_\_\_\_

### Задание 2.

На фрагменте карты внешней миграции России показан миграционный обмен с несколькими соседними странами за 1989-2017 гг., в тыс. чел. Проанализируйте карту и ответьте на вопросы.

**Максимальное количество баллов – 8**



- 1) Чему равно сальдо миграции со страной под номером 3? \_\_\_\_\_
- 2) С какой страной (напишите название или цифру) максимальное сальдо миграции?
- 3) Какие страны обозначены на картосхеме цифрами?
  - 3 - \_\_\_\_\_
  - 7 - \_\_\_\_\_
  - 8 - \_\_\_\_\_
  - 14 - \_\_\_\_\_

### Задание 3. Максимальное количество баллов – 10


**Определите по краткой характеристике объекты, находящиеся на территории Красноярского края.**

1.	Самая высокая горная вершина на территории Красноярского края
2.	Берег моря ... носит имя одного из первопроходцев Севера
3.	Озеро, на берегу которого в координатах 66°27' с.ш. и 95° 15' в.д. находится замечательная точка России
4.	Государственный заповедник, где изучается влияние водохранилища на природные сообщества гор
5.	Наивысшая точка древнего горного сооружения (1125 м). Протянувшегося на правом берегу Енисея

**Задание 4.** По изображенным на фотографиях представителям фауны определите:


1. На каком материке обитают эти животные
2. Какое место занимает этот материк по площади среди материков
3. В каком полушарии находится это материк
4. В каких климатических поясах материк расположен?

**Представители фауны**




ТАПИР      ВОЛК      ОПОССУМ      КОЙОТ  
 СКУНС      АЛЛИГАТОР      БРОНЕНОСЕЦ  
 БЕЛЫЙ МЕДВЕДЬ      ДИКОБРАЗ      ГРИЗЛИ


1




ГАРПИЯ




ЯГУАР




БРОНЕНОСЕЦ




АНАКОНДА



ОЧКОВЫЙ МЕДВЕДЬ




ПЕЛИКАН




ТАПИР


2




зубр




райская птица




панда




тигр



ИНДИЙСКИЙ СЛОН



ПИТОН



ЯК

3

